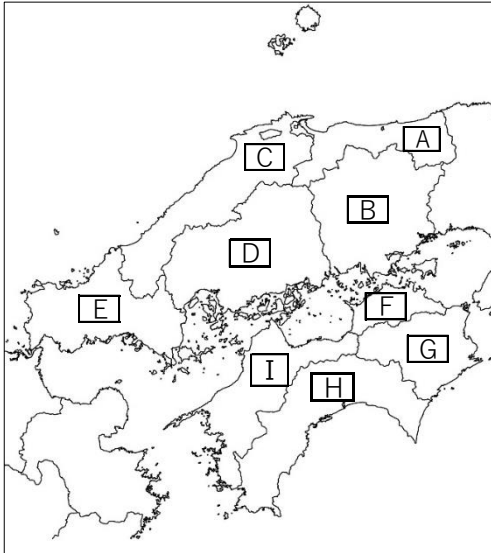


基本問題

① 次の地図中の A~I の県名とその県庁所在地名をそれぞれ書きなさい。



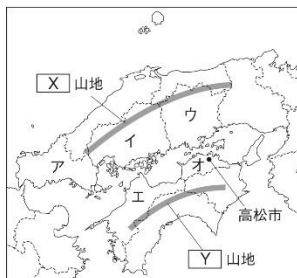
	県名	県庁所在地名
①	A	
	B	
	C	
	D	
	E	
	F	
	G	
	H	
	I	

- ② 中国・四国地方は三つの地区に分けられる。中国山地より北の地域は何とよばれるか。
- ③ 中国・四国地方は三つの地区に分けられる。四国山地より南の地域は何とよばれるか。
- ④ 中国・四国地方は三つの地区に分けられる。中国山地と四国山地にはさまれた地域は何とよばれるか。
- ⑤ 本州と四国を結ぶ、瀬戸大橋・明石海峡大橋・大鳴門大橋の3つの橋を総称して何というか。
- ⑥ 高知県の西部を流れる四国最長の川を何というか。
- ⑦ 土佐湾沖を流れる海流(暖流)を何というか。
- ⑧ 広島県にある、平氏一門の信仰を受け、1996年には世界文化遺産に登録された神社を何というか。
- ⑨ 島根県にある、かつては銀を多く採掘し、2007年に世界文化遺産に登録された鉱山を何というか。

②	③	④	⑤
⑥	⑦	⑧	⑨

発展問題

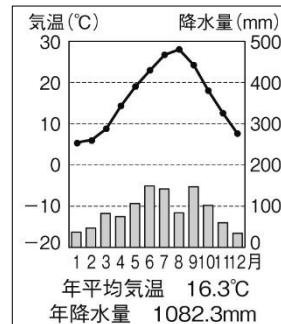
資料1



資料2



資料3



- ① 資料1中のXとYにあてはまる語句を書きなさい。
- ② 瀬戸大橋が結んでいる県を二つ、ア~オの中から選んで記号で答えなさい。
- ③ 高松市では、資料2のようにため池が多くつくられている。その理由を、資料3を参考にして書きなさい。

①	X	山地	Y	山地	②	と
③						